

МУНИЦИПАЛЬНОЕ БЮДЖЕТНОЕ УЧРЕЖДЕНИЕ ДОПОЛНИТЕЛЬНОГО  
ОБРАЗОВАНИЯ  
ДОМ ДЕТСКОГО И ЮНОШЕСКОГО ТУРИЗМА И ЭКСКУРСИЙ  
МОСКОВСКОГО РАЙОНА ГОРОДА КАЗАНИ

Методические материалы  
для учащихся  
по программе «С туризмом по жизни!»

Автор:  
Педагог дополнительного образования  
Крымов Николай Евгеньевич

Казань  
2025г

## ТЕСТОВЫЕ ЗАДАНИЯ НА ЗАКРЕПЛЕНИЕ ПРОЙДЕННОГО МАТЕРИАЛА

### ТЕСТ № 1 (необходимо крестиком отметить правильный ответ)

**Вопрос - 1:** Прибор, который помогает определить стороны света?

1А - Спидометр	1Б - Компас	1В - Безмен
1Г - Компьютер	1Д - Пульсометр	1Е - Наушники

**Вопрос - 2:** Как называется графическое изображение местности на листе бумаги?

2А - Билет	2Б - Портрет	2В - Карта
2Г - Рисунок	2Д - Купюра	2Е - Фотография

**Вопрос - 3:** Палатка нужна для...?!

3А - Разжигания костра	3Б - Для охоты	3В - Для освещения в ночное время
3Г - Для ночевки в лесу	3Д - Движения по пересеченной местности	3Е - Для приготовления пищи

**Вопрос - 4:** Два ремня висят на мне,  
Есть карманы на спине.  
А в поход пойдешь со мной –  
Я повисну за спиной.

4А - Термос	4Б - Кот	4В - Рюкзак
4Г - Младший брат	4Д - Портфель	4Е - Компьютер

**Вопрос - 5:** Он в походе очень нужен,  
Он с кострами очень дружен.  
Можно в нем уху сварить,  
Чай и кофе вскипятить.

5А - Тент	5Б - Рюкзак	5В - Термос
5Г - Котелок	5Д - Газовый баллон	5Е - Навигатор

**Вопрос - 6:** Соотнеси буквы с цифрами (соедини сплошными линиями правильные ответы)

Компас		нужен для приготовления пищи
Рюкзак		нужны для разведения костра
Палатка		нужен для переноски груза
Котелок		нужна для ночевки в лесу
Спички		поможет найти Север и Юг

**Вопрос - 7:** Соотнеси буквы с цифрами (соедини сплошными линиями правильные ответы)

Весло  
Фотоаппарат  
Дождевик  
Удочка

Сапоги

Поможет поймать рыбу в походе  
Помогут не промочить ноги  
Поможет передвигаться в лодке  
Поможет сделать красивые фото природы  
Поможет не промокнуть под дождем

**Вопрос - 8:** Вставь пропущенные слова в стихотворение: СЛОВА: МАРШРУТ; РЮКЗАК; ОБЕДОМ; ГОРЫ; КИЛОМЕТРОВ; ПОХОД;

Если спросите у туристов,  
Кто такие, куда идут,  
То они вам довольно быстро  
Очень точный скажут .....  
Если трудно идти вам с ношей,  
То любой турист тут как тут,  
Ваш .....возьмёт и поможет,  
Предоставит для вас приют.  
И накормят ..... вкусным,  
И о жизни поговорят.  
Никогда не увидите грустными  
Вы идущих в ..... ребят.  
У них образ жизни здоровый,  
В рюкзаках всё, что надо, есть.  
Позовут вас с собою снова,  
Знайте, - это большая честь!  
Пройдут в день ..... тридцать,  
В них унынья и капли нет.  
Хоть вспотели, в грязи их лица,  
Но в глазах их весёлый свет!  
Вот такие туристские были.  
Отправляйтесь, друзья, в .....  
Как же здорово там, где были!  
Как интересно всё то, что ждёт!

**Вопрос - 9:** Сколько дней проходит субботний поход выходного дня

9А - Три	9Б - Неделю	9В - Сколько потребуется
9Г - Один	9Д - На сколько хватит сил	

**Вопрос - 10:** На чем туристы больше всего любят готовить пищу в походе?

10А - На газовой плите	10Б - На печи	10В - На примусе
10Г - На костре	10Д - В микроволновке	

**ТЕСТ № 2** (необходимо крестиком отметить правильный ответ)

**Вопрос - 1:** Если встать спиной к северу, то за спиной будет?

1А - Полярная Звезда	1Б - Дорога	1В - Запад
1Г - Мешок с конфетами	1Д - Школа	

**Вопрос - 2:** Пчелы ориентируются по...

2А - Компасу	2Б - По летающим ласточкам	2В - Солнцу
2Г - Ветру	2Д - Другим пчелам	2Е - Автомобилям

**Вопрос - 3:** Об какую сторону деревьев точат свои рога олени?

3А - Северную	3Б - Об ту, где живет белка	3В - Об любую сторону
3Г - Об более гладкую сторону дерева	3Д - Южную	3Е - Ту, на которой больше веток

**Вопрос - 4:** Ягоды на открытой лесной поляне раньше созревают там, где?

4А - Погулял медведь	4Б - Где больше камней	4В - Северная сторона
4Г - Положили удобрения	4Д - Где их собирают туристы	4Е - Южная сторона

**Вопрос - 5:** Подсолнух поворачивает свою «голову» вслед за?

5А - Туристом	5Б - Ветром	5В - Солнцем
5Г - Музыкой	5Д - Старшими	5Е - Другими подсолнухами

**Вопрос - 6:** Все меня топчут, а я всем в пути - помощник.

6А - Компас	6Б - Мох	6В - Фонарик
6Г - Тропинка	6Д - Карта	6Е - Котелок

**Вопрос - 7:** По лесам и по полям, тащит больше, чем весит сам.

7А - Муравей	7Б - Слон	7В - Турист
7Г - Грузовик	7Д - Халк	7Е - Вездеход

**Вопрос - 8:** Любимый музыкальный инструмент туриста?!

8А - Фортепиано	8Б - Контрабас	8В - Бубен
8Г - Барабан	8Д - Скрипка	8Е - Гитара

**Вопрос - 9:** Как вы думаете, что самое необходимое нужно взять туристу в поход?!  
Расставь по порядку от самого важного!

Спички	1	
Посуда	2	
Видеоигра	3	
Палатка	4	
Еда	5	
Учебники	6	
Компьютер	7	
Маму	8	
Палатка	9	
Спальный мешок	10	
Крем от загара	11	
Фонарик	12	
Парашют	13	
Бритва	14	
Ножик	15	
Одежда	16	
Мячик	17	
Рюкзак	18	

**Вопрос - 10:** Подставь подходящие слова, для чего они нужны...↓

КОМПАС	КАРТА	КОТЕЛОК	РЮКЗАК
ПАЛАТКА	СПАЛЬНЫЙ МЕШОК	ЛИНЕЙКА	ДВЕРЬ
КОВРИК	ПОЛОВНИК	КОТ	НОЖ
НАВИГАТОР	МЯЧ	ВЕРЕВКА	БОТИНКИ
ПОСУДА	ГИТАРА	ПРИПРАВА	ШКАФ
ПАЛКИ ДЛЯ ХОДЬБЫ	СПИЧКИ	ЦВЕТОК	КОВЕР
ТЕНТ	КОСТЕР	ФОТОАППАРАТ	БАРАБАН

Распредели их правильно по этим позициям ↓

ПРИГОТОВЛЕНИЕ ПИЩИ В ПОХОДЕ	
ПЕРЕДВИЖЕНИЕ В ПОХОДЕ	
НОЧЕВКА НА ПРИРОДЕ	
СВОБОДНОЕ ВРЕМЯ В ПОХОДЕ	
НЕ НУЖНО В ПОХОДЕ	

**ТЕСТ № 3** (необходимо крестиком отметить правильный ответ)

**Вопрос - 1:** С какой стороны деревьев чаще растут грибы?

1А - С Южной	1Б - С той, где растет больше мха	1В - С той, где живет белка
1Г - С Западной	1Д - С той, где проходит тропинка	1Е - С Северной

**Вопрос - 2:** Как виды костров бывают? Отметь верные!

2А - «Шалаш»	2Б - «Ладья»	2В - «Лесной»
2Г - «Звездный»	2Д - «Изба»	2Е - «Индийский»
2Ж - «Таежный»		

**Вопрос - 3:** Какие узлы бывают? Отметь верные!

3А - Булинь	3Б - Линейный	3В - Встречный
3Г - Восьмерка	3Д - Дервайн	3Е - Брамштоковый
3Ж - Семерка		

**Вопрос - 4:**

**Посмотрите на картинку и ответьте на вопросы:**

А) Сколько туристов живет в этом лагере? ответ →

Б) Когда они сюда приехали: сегодня или несколько дней назад? ответ →

В) На чем они сюда приехали? ответ →

Г) Далеко ли от лагеря до ближайшего селения? ответ →

Д) Откуда дует ветер: с севера или юга? ответ →

Е) Какое сейчас время дня? ответ →

Ж) Куда ушел Шура? ответ →

З) Кто вчера был дежурным? (Назовите по имени.) ответ →

И) Какое сегодня число какого месяца? ответ →

## ДЕВЯТЬ ВОПРОСОВ



## Тест № 4

### 1. "БЕЛКИ" (Выберите правильный ответ, отметьте крестиком или выделите жирным шрифтом)

<u>1А.</u> Белогорья, горные хребты и вершины, покрытые снегом в течение всего или большей части года. Термин употребляется главным образом в Южной Сибири (Алтай, Саяны); входит в географические названия (например, Агульские Белки, Катунские Белки)	<u>1Б.</u> Зверьки, живущие на деревьях. Они едят шишки, грибы и отлично бегают по деревьям.	<u>1В.</u> Белогорья (иностранный термин), горные хребты и вершины, покрытые снегом в течение всего или большей части года. Термин употребляется главным образом в Южной Америке (Татры, Варты); входит в географические названия (например, Сахарские Белки, Индонезийские Белки)
--	--	--

### 2. "БРИЗ" (Выберите правильный ответ, отметьте крестиком или выделите жирным шрифтом)

<u>2А.</u> сильный ветер, дующий с суточной периодичностью по побережьям морей, больших озёр, а также некоторых крупных рек. Меняет направление дважды в сутки, что обусловлено неравномерным нагревом поверхности суши и водоёма на нагретое побережье, создавая не благоприятные условия для отдыха, купания; ночной бриз направлен с побережья на водоём	<u>2Б.</u> лёгкий ветер, дующий с суточной периодичностью по побережьям морей, больших озёр, а также некоторых крупных рек. Меняет направление дважды в сутки, что обусловлено неравномерным нагревом поверхности суши и водоёма на нагретое побережье, создавая комфортные условия для отдыха, купания; ночной бриз направлен с побережья на водоём	<u>2В.</u> штормовой ветер, дующий с суточной периодичностью по побережьям морей, больших озёр, а также некоторых крупных рек. Меняет направление дважды в сутки, что обусловлено неравномерным нагревом поверхности суши и водоёма на нагретое побережье, создавая чрезвычайную ситуацию в населённых пунктах приморья
---	--	---

### 3. "ГОЛЫЦЫ" (Выберите правильный ответ, отметьте крестиком или выделите жирным шрифтом)

<u>3А.</u> распространённое в Сибири название сглаженных горных вершин, поднимающихся вверх выше зоны леса	<u>3Б.</u> распространённое в Сибири название скальных выходов в горах	<u>3В.</u> распространённое в Сибири название диких маралов
--	--	---

### 4. "МУССОНЫ" (Выберите правильный ответ, отметьте крестиком или выделите жирным шрифтом)

<u>4А.</u> устойчивые ветры, меняющие своё направление при смене сезона	<u>4Б.</u> ветер, всегда дующий со стороны моря	<u>4В.</u> любой попутный ветер. Этот термин применяется только для парусных судов
---	---	--





## Тест № 5

### 1. "6 континентов - 6 вершин" (Трудно!!!).

**ЗАДАНИЕ.** На нашем земном шаре есть шесть континентов. На каждом из них свои особенные природа и климат; есть и горы, где-то они не очень высокие, а где-то, наоборот. И на каждом из 6-ти континентов есть самая высокая для этого континента точка над уровнем моря. Найди эти - самые высокие вершины на этих континентах, назови, определи высоту и укажи координаты.

<i>Континент</i>	<i>Название самой высокой точки</i>	<i>Высота над уровнем моря</i>	<i>Координаты (широта и долгота, в градусах, минутах и секундах)</i>	
			<i>долгота</i>	<i>широта</i>
1→				
2→				
3→				
4→				
5→				
6→				

### 2. "Самый популярный горный туристский регион России" (Трудно!!!).

**ЗАДАНИЕ** В России в самом популярном туристском горном районе расположена двуглавая вершина. Как называется этот горный район, как называется эта вершина, где расположен самый крутой её склон, какие реки берут начало с её склонов?

Как называется этот горный район?	→	
Как называется эта вершина?	→	
Где расположен самый крутой её склон?	→	
Какие реки берут начало с её склонов?	→	
















### 3. Спортивном туризм (Трудно!!!).

**ЗАДАНИЕ** В спортивном туризме в пеших и лыжных походах есть препятствия, разделённые на два вида и на категории трудности. Приведи по три примера каждого вида препятствий и укажи на сколько категорий трудности каждая из них разделяется?

Виды препятствия → _____			Виды препятствия → _____		
Пример №1→ _____ _____	Пример №2→ _____ _____	Пример №3→ _____ _____	Пример №1→ _____ _____	Пример №2→ _____ _____	Пример №3→ _____ _____
Категория трудности	Категория трудности	Категория трудности	Категория трудности	Категория трудности	Категория трудности
От _____ до _____	От _____ до _____	От _____ до _____	От _____ до _____	От _____ до _____	От _____ до _____

## Задание по картинкам

### 4. Элементы горного рельефа (сопоставь картинки с описаниям и названием)

		
4А→	4Б→	4В→
		
4Г	4Д→	4Е→
		
4Ж→	4И→	4К→
		
4Л→	4М→	4Н→
		
4П	4Р	4С→

Пик	Останцы	Ледниковое озеро	Хребет	Горное озеро
Ущелье	Сераки	Ребро	Бараньи лбы	Хребет
Висячий ледник	Горный массив	Столовая гора	Перевал	Альпийский луг

**5. Спортивном туризм (Очень трудно!!!).**

ЗАДАНИЕ Определите по картинке - Какое препятствие преодолевает турист ↓



Ответ вписать сюда →	
----------------------	--

**6. Перечислить вершины гор с запада на восток: Белуха, Эльбрус, Народы, Ключевская Сопка**

перечислить вершины с запада на восток (слева направо)			
→	→	→	→

**7. Перечислить города с запада на восток: Москва, Минск, Красноярск, Новосибирск, Иркутск, Якутск, Хабаровск**

перечислить города с запада на восток (слева направо)						
→	→	→	→	→	→	→

**8. Перечислить регионы с востока запад: Карелия, Коми, Бурятия, Ханты-Мансийский округ, Эвенкийский округ, Камчатка**

перечислить районы с запада на восток (слева направо)					
→	→	→	→	→	→

**9. Перечислить острова с запада на восток: Новая Земля, Северная Земля, Анжу, Врангеля**

перечислить острова с запада на восток (слева направо)			
→	→	→	→

**10. Перечислить крупные водоёмы с запада на восток: Балхаш, Чёрное море, Каспийское море, Аральское море, Байкал**

перечислить крупные водоёмы с запада на восток (слева направо)				
→	→	→	→	→